





MASSE	Séquence 1	Séance 3
CE1	TRACE ÉCRITE SANS CONCLUSION	

	<p>Quel objet utilisé 2 fois a la même masse que le paquet de sucre ?</p> <p>Quel objet utilisé 4 fois a la même masse que le paquet de sucre ?</p> <p>Quel objet utilisé 10 fois a la même masse que le paquet de sucre ?</p> <p>Quel objet utilisé 100 fois a la même masse que le paquet de sucre ?</p> <p>Quel objet utilisé 1 000 fois a la même masse que le paquet de sucre ?</p>
	
	<p>Pour peser le paquet de sucre, il faut :</p> <ul style="list-style-type: none"> • • • • •
	<p>.....</p> <p>.....</p> <p>.....</p> <p>.....</p>